

Шифр Т-9-2

школьный этап всероссийской олимпиады школьников  
2023-2024 учебного года

Работа

по Технологии  
(наименование предмета)

ученика (цы) 8 класса (за 9 класс)

МБОУ СОШ № 16

г. Пятигорска

Ставропольского края

Аювай Милена Ренатовна

(Фамилия, имя, отчество полностью)

Учитель: Волощина Светлана Валентиновна

« 24 » сентября 2023 года

победитель

T-9-2

Код участника

**Всероссийская олимпиада по технологии 2023-2024 учебный год**  
**ШКОЛЬНЫЙ ЭТАП**  
**9 КЛАСС**

**Направление «Культура дома, дизайн и технологии».**

**Время выполнения работы – 90 минут.**

**Максимальное количество баллов – 25.**

**Общая максимальная оценка по итогам выполнения заданий олимпиады по технологии – 60**

**Отметьте знаком «+» все правильные ответы.**

**1. Способ подключения к сети Интернет, обеспечивающий наибольшие возможности для доступа к информационным ресурсам:**

- а) удаленный доступ по коммутируемому телефонному каналу;
- б) постоянное соединение по оптоволоконному каналу;
- в) постоянное соединение по телефонному каналу;
- г) терминальное соединение по коммутируемому телефонному каналу.

**Отметьте знаком «+» правильный ответ.**

**2. Что такое запекание?**

- а) кратковременная обработка продуктов горячей водой или паром с целью облегчения их дальнейшей механической обработки или для удаления горечи.
- б) комбинированный способ тепловой обработки, заключающийся в нагревании продукта в) жаровочном шкафу для доведения его до готовности с образованием поджаристой корочки.
- в) способ тепловой обработки, при котором продукт нагревают с жиром или без него при температуре 130-180 °С до образования на поверхности поджаристой корочки.

**Отметьте знаком «+» все правильные ответы.**

**3. Доброкачественное мясо:**

- а) упругое
- б) имеет мягкий жир
- в) имеет твердый жир
- г) не упругое

T-9-2

Выберите правильный ответ.

4. Быстрое обваривание или ошпаривание – это:

- а) пассерование
- б) припускание
- в) тушение
- г) бланширование

1

Отметьте знаком «+» все правильные ответы

5. Цель рекламной компании:

- а) создание благоприятного образа компании
- б) высокое качество товара
- в) получение прибыли предприятия
- г) разработка прибыльного бизнес-плана
- д) стимулирование продаж

1

Отметьте знаком «+» правильный ответ.

6. Чем больше номер на машинной игле, тем сама игла:

- а) толще
- б) тоньше

1

Отметьте знаком «+» все правильные ответы.

7. В бытовой швейной машине имеются регуляторы:

- а) длины стежка
- б) ширины стежка
- в) ширины зигзага
- г) натяжения верхней нити

1

8. Допишите терминологию швейной операции:

Застрочить – это

*временно наметать и прошить подолку*  
*край изделия*

0

Отметьте знаком «+» правильный ответ.

9. Винт в шпульном колпачке нужен:

- а) для регулирования натяжения верхней нити
- б) для регулирования натяжения нижней нити
- в) для соединения деталей челнока в единое целое

1

Отметьте знаком «+» все правильные ответы.

10. Перевод выкройки на ткань осуществляется при помощи:

- а) сметочных стежков
- б) резца
- в) копировальных стежков
- г) портновского мела

1



д) косых стежков.

Отметьте знаком «+» правильный ответ.

11. Какой линией чертежа по ГОСТу чертят линии видимого контура детали?

- а) Сплошная тонкая
- б) Разомкнутая
- в) Сплошная волнистая
- г) Сплошная основная
- д) Штрихпунктирная тонкая

Отметьте знаком «+» правильный ответ.

12. Убедится в наличии напряжения 127 В в розетке бытовой электрической сети можно:

- а) Подсоединив к ней электролампу на напряжение 220 В
- б) Присоединив клеммы вольтметра с пределом измерения 220 В к клеммам электрической розетки.
- в) Присоединив к одной из клемм индикатор напряжения.

Отметьте знаком «+» правильный ответ.

13. Какая профессиональная проба наиболее достоверна при определении пригодности к профессии токаря?

- а) программирование
- б) радиомонтаж
- в) вождение автомобиля
- г) преподавание в школе
- д) социальное консультирование

Отметьте знаком «+» все правильные ответы.

14. Юбки по конструкции бывают:

- а) прямые
- б) клиньевые
- в) диагональные
- г) конические
- д) расширенные
- е) зауженные

Отметьте знаком «+» правильный ответ

15. Цена – это

- а) прейскурант на продукцию
- б) сумма прибыли за месяц
- в) коммерческий обмен ценностями
- г) денежная сумма, уплачиваемая за единицу товара



7-9-2

Отметьте знаком «+» правильный ответ.

16. Редактирование текстового документа приводит к изменению:

- а) начертания текстовых символов;
- б) межстрочного расстояния;
- в) количества и/или последовательности символов;
- г) размера полей документа.

1

Отметьте знаком «+» правильный ответ.

17. Направление долевой нити учитывают:

- а) для наиболее экономного раскроя ткани
- б) чтобы избежать вытягивания изделия в процессе носки
- в) чтобы изделие меньше сминалось

1

Отметьте знаком «+» правильный ответ.

18. Если в последовательную цепь, состоящую из источника постоянного тока, ключа в замкнутом положении, двух электроламп включить конденсатор то:

- а) свечение лампочек увеличится
- б) свечение лампочек исчезнет
- в) свечение лампочек уменьшится

0

Отметьте знаком «+» правильный ответ.

19. Ресурсы семьи - это:

- а) социальное желание иметь что-либо в семье
- б) правильное планирование бюджета семьи
- в) всё, чем располагает семья

1

Отметьте знаком «+» все правильные ответы.

20. При обработке нижнего среза изделия применяют швы

- а) стачной
- б) обтачной
- в) вподгибку с закрытым срезом
- г) двойной
- д) вподгибку с открытым срезом

1



21. Творческое задание.

Предложите две модели поясных изделий разного назначения.

1. Выполните эскизы моделей в цвете. 1,5
2. Сделайте описание моделей по эскизам. 1,5
3. Предложите варианты декоративной отделки изделий. 0,5
4. Предложите ткани (или волокнистый состав) для этих моделей. 0,5

3,5

Модели поясных изделий разного назначения.

№	Эскиз модели в цвете	Описание модели	Варианты декоративной отделки изделий.	Ткани (или волокнистый состав) для этих моделей.
№1		<p>Повседневная юбка-шорты сиреневого цвета с тесьмой по талии и карманами.</p>	Льняная	Хлопок
№2		<p>Белая повседневная юбка, с тесьмой по талии и двумя карманами (серого цвета)</p>		Хлопок

3,55



T-9-2

**Всероссийская олимпиада по технологии 2023-2024 учебный год  
ШКОЛЬНЫЙ ЭТАП  
9 КЛАСС**

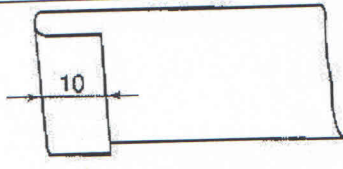


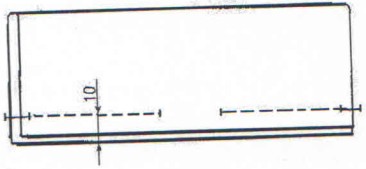

**Направление «Культура дома, дизайн и технологии».  
Практика**

**Время выполнения задания практического тура в общей сложности – 90 минут  
Максимальное количество баллов – 20 (Моделирование)  
15 (Пошив)**

**Общая максимальная оценка по итогам выполнения заданий олимпиады по  
технологии – 60**

**«Изготовление повязки для дежурного»**

Материалы: ткань из хлопка :  
основная деталь (1 шт) - 27x22 см;  
детали завязки (4 шт.) – 20x4см

Последовательность выполнения работы	Графическое изображение
<p>Обработка завязок накладным швом с расположением шва по краю детали</p> <p>1. Подогните один короткий срез детали на 10 мм и заутюжьте.</p>	
<p>2. Боковые стороны детали подогните на 5 мм, заутюжьте и заметайте прямыми стежками</p>	
<p>3. Сложите деталь завязки вдоль, выпуская один сгиб относительно другого на 2 мм. Выполните накладной шов по всей длине завязки. Расстояние от сгиба до строчки 2 мм.</p>	
<p><b>Обработка основной детали повязки</b></p> <p>4. Сложите основную деталь вдоль по середине лицевыми сторонами внутрь, срезы уровняйте. Сметайте и стачайте шов, разутюжьте. Ширина шва 10 мм. В середине шва прервите строчку для вывертывания</p>	
<p>5. Сложите повязку так, чтобы шов располагался по середине. Вложите завязки внутрь детали, располагая их вплотную к сгибам основной детали. Сметайте, обтачайте боковые срезы основной детали. Ширина шва 10 мм. Срежьте углы, удалите наметку, выверните и проутюжьте</p>	



T-9-2

Всероссийская олимпиада по технологии 2023-2024 учебный год

ШКОЛЬНЫЙ ЭТАП

9 КЛАСС

Направление «Культура дома, дизайн и технологии».

Время выполнения задания практического тура в общей сложности – 90 минут

Максимальное количество баллов – 20 (Моделирование)

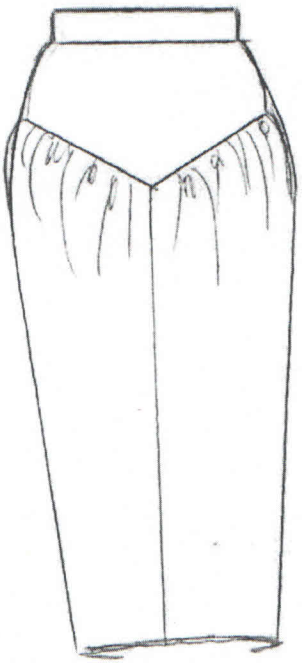
15 (Пошив)

Общая максимальная оценка по итогам выполнения заданий олимпиады по технологии – 60

Моделирование

Задание.


1. Прочитайте описание модели юбки и рассмотрите эскиз.
2. В соответствии с эскизом нанесите линии фасона на чертеж основы юбки.
3. Перенесите линии фасона на шаблон из цветной бумаги.
4. Изготовьте из цветной бумаги детали выкройки для раскладки на ткани.
5. Наклейте результат выкройки на лист результатов.
6. Нанесите на детали выкройки необходимые надписи для раскроя.

Эскиз	Описание модели
	<p>Юбка с фигурной кокеткой на переднем полотнище, со сборкой по верхнему срезу нижней части переднего полотнища, с притачным поясом.</p> <p>Нижняя часть юбки заужена.</p>



T-9-2

Результаты моделирования.



195.



тещины - 165

T-9-2

творческого задания 3,5

модернизация - 1956 } 345

Пенсию 14,58.

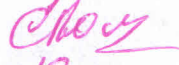
Итого: 535.

Президент



Н.А. Еремкина

Члены жюри



С.В. Волынкина



Т.У. Светлов

Шифр Т-9-1

школьный этап всероссийской олимпиады школьников  
2023-2024 учебного года

Работа

по технологии  
(наименование предмета)

ученика (цы) 9Б класса

МБОУ СОШ № 16

г. Пятигорска

Ставропольского края

Романов Димитрий Александрович  
(Фамилия, имя, отчество полностью)

Учитель: Валентина Светлана Валентиновна

« 27 » сентября 2023 года

призёр

T-9-1

Код участника

Всероссийская олимпиада по технологии 2023-2024 учебный год  
ШКОЛЬНЫЙ ЭТАП  
9 КЛАСС

Направление «Культура дома, дизайн и технологии».

Время выполнения работы – 90 минут.

Максимальное количество баллов – 25.

Общая максимальная оценка по итогам выполнения заданий олимпиады по  
технологии – 60

Отметьте знаком «+» все правильные ответы.

1. Способ подключения к сети Интернет, обеспечивающий наибольшие возможности для доступа к информационным ресурсам:

- а) удаленный доступ по коммутируемому телефонному каналу;
- б) постоянное соединение по оптоволоконному каналу;
- в) постоянное соединение по телефонному каналу;
- г) терминальное соединение по коммутируемому телефонному каналу.

Отметьте знаком «+» правильный ответ.

2. Что такое запекание?

- а) кратковременная обработка продуктов горячей водой или паром с целью облегчения их дальнейшей механической обработки или для удаления горечи.
- б) комбинированный способ тепловой обработки, заключающийся в нагревании продукта в) жаровочном шкафу для доведения его до готовности с образованием поджаристой корочки.
- в) способ тепловой обработки, при котором продукт нагревают с жиром или без него при температуре 130-180 °С до образования на поверхности поджаристой корочки.

Отметьте знаком «+» все правильные ответы.

3. Доброкачественное мясо:

- а) упругое
- б) имеет мягкий жир
- в) имеет твердый жир
- г) не упругое



T-9-7

Выберите правильный ответ.

4. Быстрое обваривание или ошпаривание – это:

- а) пассерование
- б) припускание
- в) тушение
- г) бланширование

1

Отметьте знаком «+» все правильные ответы

5. Цель рекламной компании:

- а) создание благоприятного образа компании
- б) высокое качество товара
- в) получение прибыли предприятия
- г) разработка прибыльного бизнес-плана
- д) стимулирование продаж

1

Отметьте знаком «+» правильный ответ.

6. Чем больше номер на машинной игле, тем сама игла:

- а) толще
- б) тоньше

1

Отметьте знаком «+» все правильные ответы.

7. В бытовой швейной машине имеются регуляторы:

- а) длины стежка
- б) ширины стежка
- в) ширины зигзага
- г) натяжения верхней нити

1

8. Допишите терминологию швейной операции:

Застрочить – это

..... закрепить машинной строчкой подогнутый край.....

1

Отметьте знаком «+» правильный ответ.

9. Винт в шпульном колпачке нужен:

- а) для регулирования натяжения верхней нити
- б) для регулирования натяжения нижней нити
- в) для соединения деталей челнока в единое целое

1

Отметьте знаком «+» все правильные ответы.

10. Перевод выкройки на ткань осуществляется при помощи:

- а) сметочных стежков
- б) резца
- в) копировальных стежков
- г) портновского мела

1

T-9-1

д) косых стежков.

Отметьте знаком «+» правильный ответ.

11. Какой линией чертежа по ГОСТу чертят линии видимого контура детали?

- а) Сплошная тонкая
- б) Разомкнутая
- в) Сплошная волнистая
- г) Сплошная основная
- д) Штрихпунктирная тонкая

1

Отметьте знаком «+» правильный ответ.

12. Убедитесь в наличии напряжения 127 В в розетке бытовой электрической сети можно:

- а) Подсоединив к ней электролампу на напряжение 220 В
- б) Присоединив клеммы вольтметра с пределом измерения 220 В к клеммам электрической розетки.
- в) Присоединив к одной из клемм индикатор напряжения.

0

Отметьте знаком «+» правильный ответ.

13. Какая профессиональная проба наиболее достоверна при определении пригодности к профессии токаря?

- а) программирование
- б) радиомонтаж
- в) вождение автомобиля
- г) преподавание в школе
- д) социальное консультирование

1

Отметьте знаком «+» все правильные ответы.

14. Юбки по конструкции бывают:

- а) прямые
- б) клиньевые
- в) диагональные
- г) конические
- д) расширенные
- е) зауженные

1

Отметьте знаком «+» правильный ответ

15. Цена – это

- а) прейскурант на продукцию
- б) сумма прибыли за месяц
- в) коммерческий обмен ценностями
- г) денежная сумма, уплачиваемая за единицу товара

1



T-9-1

Отметьте знаком «+» правильный ответ.

16. Редактирование текстового документа приводит к изменению:

- а) начертания текстовых символов;
- б) межстрочного расстояния;
- в) количества и/или последовательности символов;
- г) размера полей документа.

1

Отметьте знаком «+» правильный ответ.

17. Направление долевой нити учитывают:

- а) для наиболее экономного раскроя ткани
- б) чтобы избежать вытягивания изделия в процессе носки
- в) чтобы изделие меньше сминалось

1

Отметьте знаком «+» правильный ответ.

18. Если в последовательную цепь, состоящую из источника постоянного тока, ключа в замкнутом положении, двух электроламп включить конденсатор то:

- а) свечение лампочек увеличится
- б) свечение лампочек исчезнет
- в) свечение лампочек уменьшится

1

Отметьте знаком «+» правильный ответ.

19. Ресурсы семьи - это:

- а) социальное желание иметь что-либо в семье
- б) правильное планирование бюджета семьи
- в) всё, чем располагает семья

1

Отметьте знаком «+» все правильные ответы.

20. При обработке нижнего среза изделия применяют швы

- а) стачной
- б) обтачной
- в) вподгибку с закрытым срезом
- г) двойной
- д) вподгибку с открытым срезом

1

21. Творческое задание.

Предложите две модели поясных изделий разного назначения.



1. Выполните эскизы моделей в цвете. 1
2. Сделайте описание моделей по эскизам. 0,5
3. Предложите варианты декоративной отделки изделий. 0,5
4. Предложите ткани (или волокнистый состав) для этих моделей. 0,5

2,5



T-9-1

Модели поясных изделий разного назначения.

№	Эскиз модели в цвете	Описание модели	Варианты декоративной отделки изделий.	Ткани (или волокнистый состав) для этих моделей.
№1		<p>шорты средней длины, с карманами и ремнем.</p>	<p>пудровцы, стразы, кружева.</p>	<p>хлопок, лён, трикотаж, шёлк, деним.</p>
№2		<p>юбка плиссированная выше колена.</p>	<p>Бисер, вышивки.</p>	<p>все трикотаж.</p>

2,58.

Всероссийская олимпиада по технологии 2023-2024 учебный год  
**ШКОЛЬНЫЙ ЭТАП**  
 9 КЛАСС

T-9-1

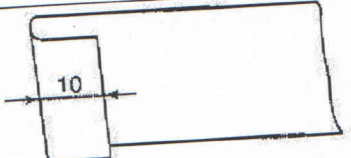


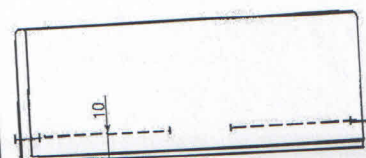

Направление «Культура дома, дизайн и технологии».  
 Практика

Время выполнения задания практического тура в общей сложности – 90 минут  
 Максимальное количество баллов – 20 (Моделирование)  
 15 (Пошив)

Общая максимальная оценка по итогам выполнения заданий олимпиады по  
 технологии – 60

«Изготовление повязки для дежурного»

Материалы: ткань из хлопка :  
 основная деталь (1 шт) - 27x22 см;  
 детали завязки (4 шт.) – 20x4см

Последовательность выполнения работы	Графическое изображение
Обработка завязок накладным швом с расположением шва по краю детали 1. Подогните один короткий срез детали на 10 мм и заутюжьте.	
2. Боковые стороны детали подогните на 5 мм, заутюжьте и заметайте прямыми стежками	
3. Сложите деталь завязки вдоль, выпуская один сгиб относительно другого на 2 мм. Выполните накладной шов по всей длине завязки. Расстояние от сгиба до строчки 2 мм.	
<b>Обработка основной детали повязки</b> 4. Сложите основную деталь вдоль по середине лицевыми сторонами внутрь, срезы уровняйте. Сметайте и стачайте шов, разутюжьте. Ширина шва 10 мм. В середине шва прервите строчку для вывертывания	
5. Сложите повязку так, чтобы шов располагался по середине. Вложите завязки внутрь детали, располагая их вплотную к сгибам основной детали. Сметайте, обтачайте боковые срезы основной детали. Ширина шва 10 мм. Срежьте углы, удалите наметку, выверните и проутюжьте	



Всероссийская олимпиада по технологии 2023-2024 учебный год  
ШКОЛЬНЫЙ ЭТАП  
9 КЛАСС

T-9-1

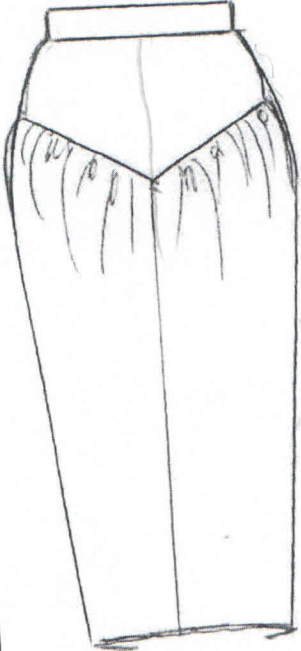
Направление «Культура дома, дизайн и технологии».

Время выполнения задания практического тура в общей сложности – 90 минут  
Максимальное количество баллов – 20 (Моделирование)  
15 (Пошив)

Общая максимальная оценка по итогам выполнения заданий олимпиады по  
технологии – 60  
Моделирование

Задание.

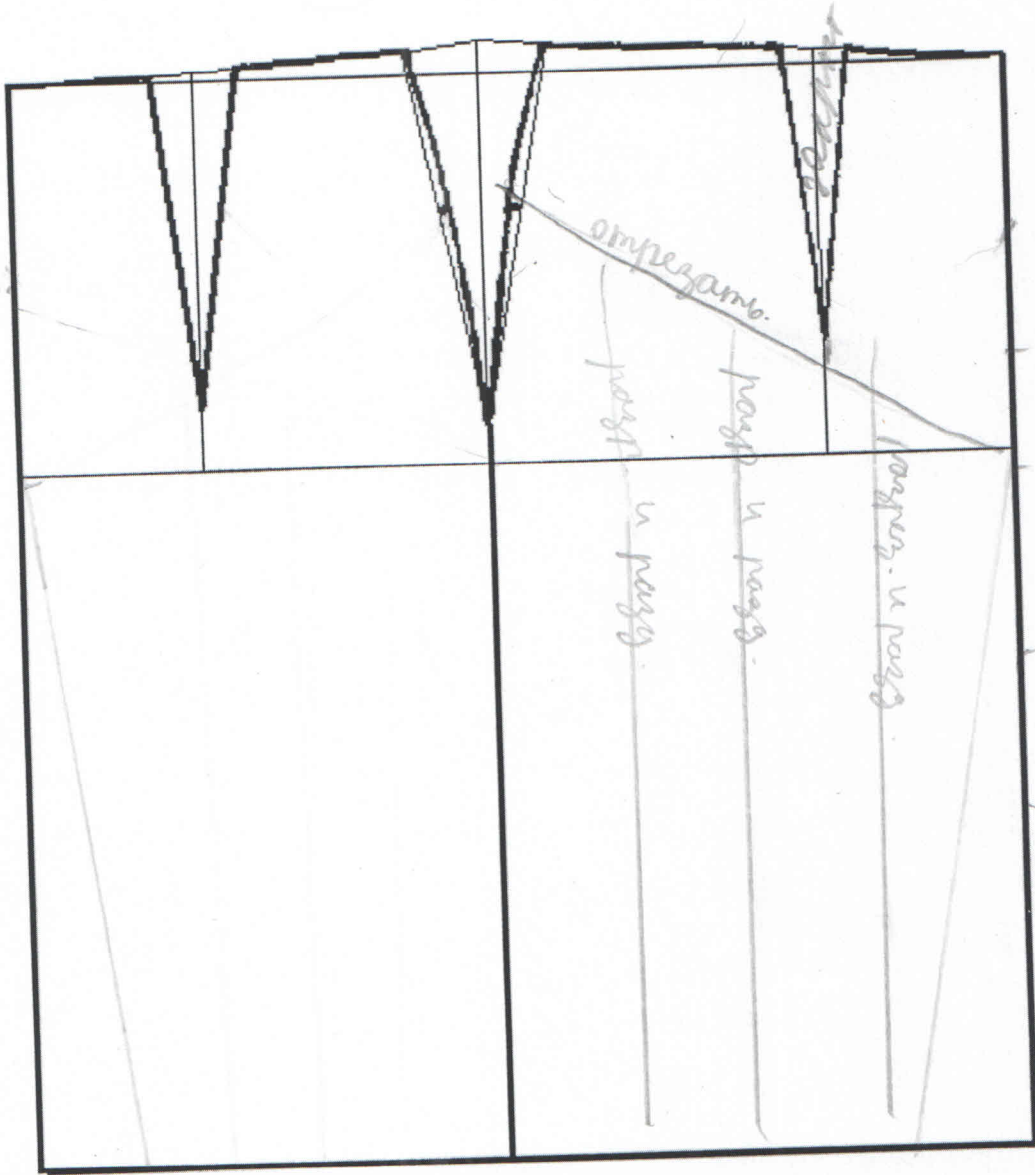
1. Прочитайте описание модели юбки и рассмотрите эскиз.
2. В соответствии с эскизом нанесите линии фасона на чертеж основы юбки.
3. Перенесите линии фасона на шаблон из цветной бумаги.
4. Изготовьте из цветной бумаги детали выкройки для раскладки на ткани.
5. Наклейте результат выкройки на лист результатов.
6. Нанесите на детали выкройки необходимые надписи для раскроя.

Эскиз	Описание модели
	<p>Юбка с фигурной кокеткой на переднем полотнище, со сборкой по верхнему срезу нижней части переднего полотнища, с притачным поясом.</p> <p>Нижняя часть юбки заужена.</p>




T-9-1

Чертеж основы юбки для моделирования



T-9-1

# Результаты моделирования.



теория - 195.

T-9-1

теор. задание - 2,58

логирование - 188

Юрид. - 13,58.

} 31,5

Итого - 538.

Председатель



Н.А. Еремкина

Члены жюри



С.В. Волькина



Т.Н. Светлов



Шифр Т-9-3

ШКОЛЬНЫЙ этап всероссийской олимпиады школьников  
2023-2024 учебного года

Работа

ПО технологии  
(наименование предмета)

ученика (цы) 8Б класса (30 класс)

МБОУ СОШ № 16

г. Пятигорска

Ставропольского края

Рощанова Анна Александровна.  
(Фамилия, имя, отчество полностью)

Учитель: Васькина Светлана Валентиновна.

« 27 » 09 2023 года

призёр

T-9-3

Код участника

**Всероссийская олимпиада по технологии 2023-2024 учебный год**  
**ШКОЛЬНЫЙ ЭТАП**  
**9 КЛАСС**

**Направление «Культура дома, дизайн и технологии».**

**Время выполнения работы – 90 минут.**

**Максимальное количество баллов – 25.**

**Общая максимальная оценка по итогам выполнения заданий олимпиады по технологии – 60**

**Отметьте знаком «+» все правильные ответы.**

**1. Способ подключения к сети Интернет, обеспечивающий наибольшие возможности для доступа к информационным ресурсам:**

- а) удаленный доступ по коммутируемому телефонному каналу;
- б) постоянное соединение по оптоволоконному каналу;
- в) постоянное соединение по телефонному каналу;
- г) терминальное соединение по коммутируемому телефонному каналу.

**Отметьте знаком «+» правильный ответ.**

**2. Что такое запекание?**

- а) кратковременная обработка продуктов горячей водой или паром с целью облегчения их дальнейшей механической обработки или для удаления горечи.
- б) комбинированный способ тепловой обработки, заключающийся в нагревании продукта в) жаровочном шкафу для доведения его до готовности с образованием поджаристой корочки.
- в) способ тепловой обработки, при котором продукт нагревают с жиром или без него при температуре 130-180 °С до образования на поверхности поджаристой корочки.

**Отметьте знаком «+» все правильные ответы.**

**3. Доброкачественное мясо:**

- а) упругое
- б) имеет мягкий жир
- в) имеет твердый жир
- г) не упругое

Выберите правильный ответ.

4. Быстрое обваривание или ошпаривание – это:

- а) пассерование
- б) припускание
- в) тушение
- г) бланширование

1

Отметьте знаком «+» все правильные ответы

5. Цель рекламной компании:

- + а) создание благоприятного образа компании
- б) высокое качество товара
- в) получение прибыли предприятия
- г) разработка прибыльного бизнес-плана
- + д) стимулирование продаж

1

Отметьте знаком «+» правильный ответ.

6. Чем больше номер на машинной игле, тем сама игла:

1

- + а) толще
- б) тоньше

Отметьте знаком «+» все правильные ответы.

7. В бытовой швейной машине имеются регуляторы:

- + а) длины стежка
- б) ширины стежка
- + в) ширины зигзага
- + г) натяжения верхней нити

1

8. Допишите терминологию швейной операции:

Застрочить – это

... закрепить лоскуты край машинной строчки

Отметьте знаком «+» правильный ответ.

9. Винт в шпульном колпачке нужен:

- а) для регулирования натяжения верхней нити
- + б) для регулирования натяжения нижней нити
- в) для соединения деталей челнока в единое целое

1

Отметьте знаком «+» все правильные ответы.

10. Перевод выкройки на ткань осуществляется при помощи:

- а) сметочных стежков
- + б) резца
- + в) копировальных стежков
- + г) портновского мела

1



д) косых стежков.

Отметьте знаком «+» правильный ответ.

11. Какой линией чертежа по ГОСТу чертят линии видимого контура детали?

- а) Сплошная тонкая
- б) Разомкнутая
- в) Сплошная волнистая
- +г) Сплошная основная
- д) Штрихпунктирная тонкая

1

Отметьте знаком «+» правильный ответ.

12. Убедитесь в наличии напряжения 127 В в розетке бытовой электрической сети можно:

- \*а) Подсоединив к ней электролампу на напряжение 220 В
- +б) Присоединив клеммы вольтметра с пределом измерения 220 В к клеммам электрической розетки.
- в) Присоединив к одной из клемм индикатор напряжения.

0

Отметьте знаком «+» правильный ответ.

13. Какая профессиональная проба наиболее достоверна при определении пригодности к профессии токаря?

- +а) программирование
- +б) радиомонтаж
- в) вождение автомобиля
- г) преподавание в школе
- д) социальное консультирование

0

Отметьте знаком «+» все правильные ответы.

14. Юбки по конструкции бывают:

- +а) прямые
- +б) клинневые
- в) диагональные
- +г) конические
- д) расширенные
- е) зауженные

1

Отметьте знаком «+» правильный ответ

15. Цена – это

- а) прейскурант на продукцию
- б) сумма прибыли за месяц
- в) коммерческий обмен ценностями
- +г) денежная сумма, уплачиваемая за единицу товара

1

T-9-3

Отметьте знаком «+» правильный ответ.

16. Редактирование текстового документа приводит к изменению:

- а) начертания текстовых символов;
- б) межстрочного расстояния;
- + в) количества и/или последовательности символов;
- г) размера полей документа.

Отметьте знаком «+» правильный ответ.

17. Направление долевой нити учитывают:

- а) для наиболее экономного раскроя ткани
- + б) чтобы избежать вытягивания изделия в процессе носки
- в) чтобы изделие меньше сминалось

Отметьте знаком «+» правильный ответ.

18. Если в последовательную цепь, состоящую из источника постоянного тока, ключа в замкнутом положении, двух электроламп включить конденсатор то:

- а) свечение лампочек увеличится
- + б) свечение лампочек исчезнет
- + в) свечение лампочек уменьшится

Отметьте знаком «+» правильный ответ.

19. Ресурсы семьи - это:

- а) социальное желание иметь что-либо в семье
- б) правильное планирование бюджета семьи
- + в) всё, чем располагает семья

Отметьте знаком «+» все правильные ответы.

20. При обработке нижнего среза изделия применяют швы

- а) стачной
- б) обтачной
- + в) вподгибку с закрытым срезом
- г) двойной
- + д) вподгибку с открытым срезом



21. Творческое задание.

Предложите две модели поясных изделий разного назначения.

1. Выполните эскизы моделей в цвете.
2. Сделайте описание моделей по эскизам.
3. Предложите варианты декоративной отделки изделий.
4. Предложите ткани (или волокнистый состав) для этих моделей.

T-9-3

Модели поясных изделий разного назначения.

№	Эскиз модели в цвете	Описание модели	Варианты декоративной отделки изделий.	Ткани (или волокнистый состав) для этих моделей.
№1		<p>Клиньевая юбка, состоящая из большого количества складок. Расширяется к низу, облегал талию. Длина до колена.</p>	<p>Кружево, пуговицы, вышивка из бисера и ниток.</p>	<p>Трикотаж, Габардин.</p>
№2		<p>Товарные, классические брюки прямого силуэта. Отрезные части брюк с шлепками складками от талии срезом и боковыми карманами. Брюки с притачными поясом.</p>	<p>Стразы, кружево.</p>	<p>Хлопок, лен, вискоза шелк.</p>

Зачу - 2.  
описание 1  
отделка 0,5  
ткани - 0,5



T-9-3

**Всероссийская олимпиада по технологии 2023-2024 учебный год  
ШКОЛЬНЫЙ ЭТАП  
9 КЛАСС**

**Направление «Культура дома, дизайн и технологии».**

**Практика**

**Время выполнения задания практического тура в общей сложности – 90 минут**

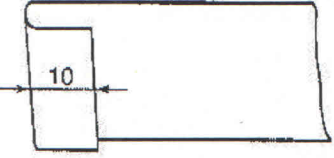




**Максимальное количество баллов – 20 (Моделирование)**

**15 (Пошив)**

**Общая максимальная оценка по итогам выполнения заданий олимпиады по  
технологии – 60**

**«Изготовление повязки для дежурного»**

Материалы: ткань из хлопка :  
основная деталь (1 шт) - 27x22 см;  
детали завязки (4 шт.) – 20x4см

Последовательность выполнения работы	Графическое изображение
<p>Обработка завязок накладным швом с расположением шва по краю детали</p> <p>1. Подогните один короткий срез детали на 10 мм и заутюжьте.</p>	
<p>2. Боковые стороны детали подогните на 5 мм, заутюжьте и заметайте прямыми стежками</p>	
<p>3. Сложите деталь завязки вдоль, выпуская один сгиб относительно другого на 2 мм. Выполните накладной шов по всей длине завязки. Расстояние от сгиба до строчки 2 мм.</p>	
<p><b>Обработка основной детали повязки</b></p> <p>4. Сложите основную деталь вдоль по середине лицевыми сторонами внутрь, срезы уровняйте. Сметайте и стачайте шов, разутюжьте. Ширина шва 10 мм. В середине шва прервите строчку для вывертывания</p>	
<p>5. Сложите повязку так, чтобы шов располагался по середине. Вложите завязки внутрь детали, располагая их вплотную к сгибам основной детали. Сметайте, обтачайте боковые срезы основной детали. Ширина шва 10 мм. Срежьте углы, удалите наметку, выверните и проутюжьте</p>	

T-9-3

Всероссийская олимпиада по технологии 2023-2024 учебный год

ШКОЛЬНЫЙ ЭТАП

9 КЛАСС

Направление «Культура дома, дизайн и технологии».

Время выполнения задания практического тура в общей сложности – 90 минут

Максимальное количество баллов – 20 (Моделирование)

15 (Пошив)

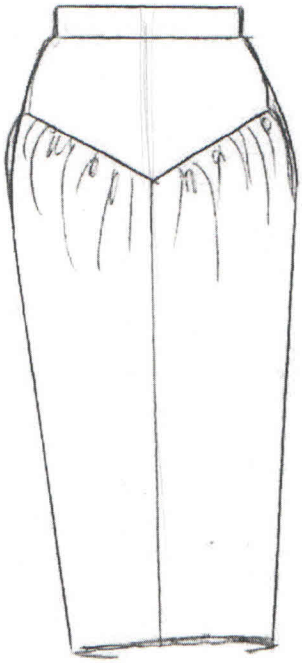
Общая максимальная оценка по итогам выполнения заданий олимпиады по

технологии – 60

Моделирование

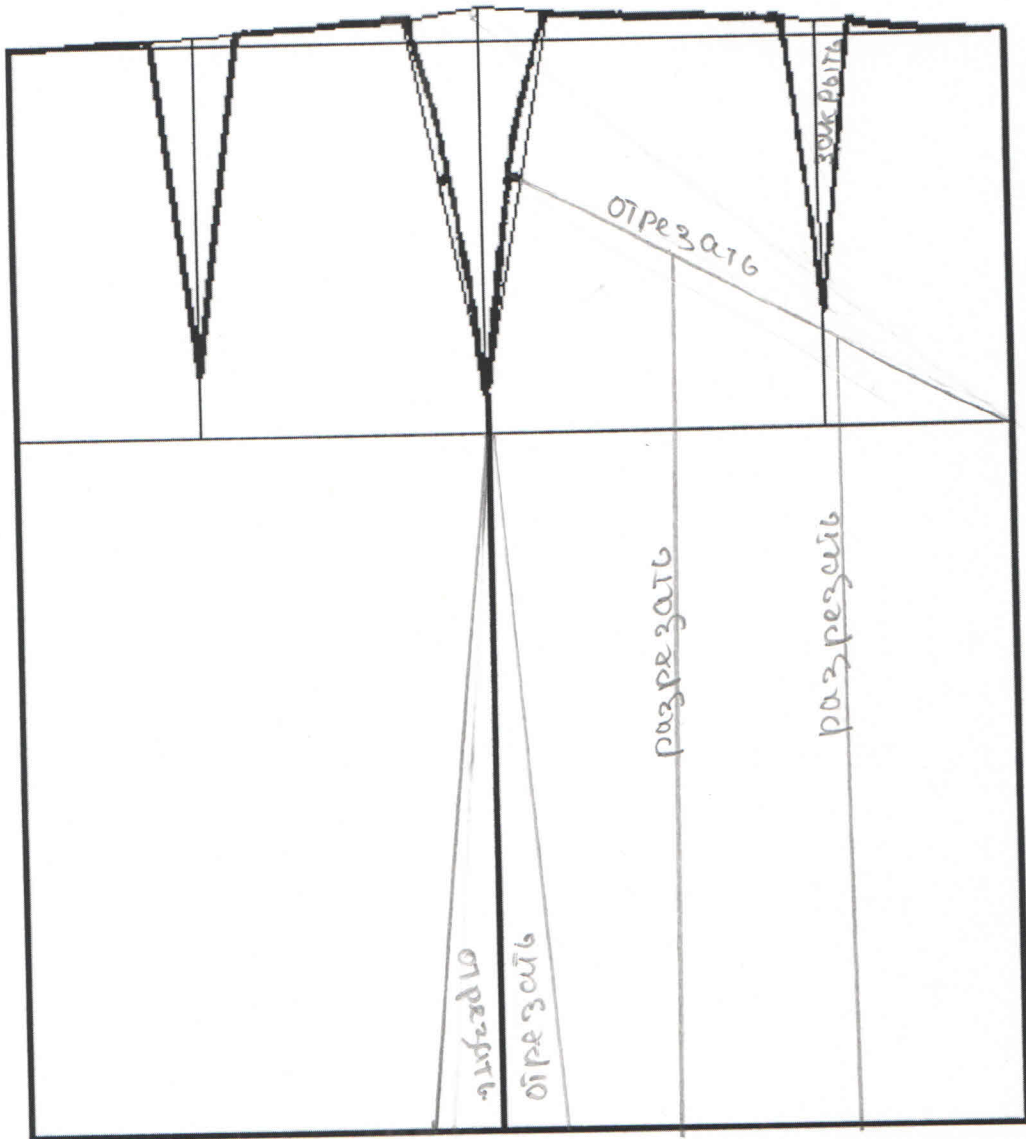
Задание.

1. Прочитайте описание модели юбки и рассмотрите эскиз.
2. В соответствии с эскизом нанесите линии фасона на чертеж основы юбки.
3. Перенесите линии фасона на шаблон из цветной бумаги.
4. Изготовьте из цветной бумаги детали выкройки для раскладки на ткани.
5. Наклейте результат выкройки на лист результатов.
6. Нанесите на детали выкройки необходимые надписи для раскроя.

Эскиз	Описание модели
	<p>Юбка с фигурной кокеткой на переднем полотнище, со сборкой по верхнему срезу нижней части переднего полотнища, с притачным поясом.</p> <p>Нижняя часть юбки заужена.</p>

T-9-3

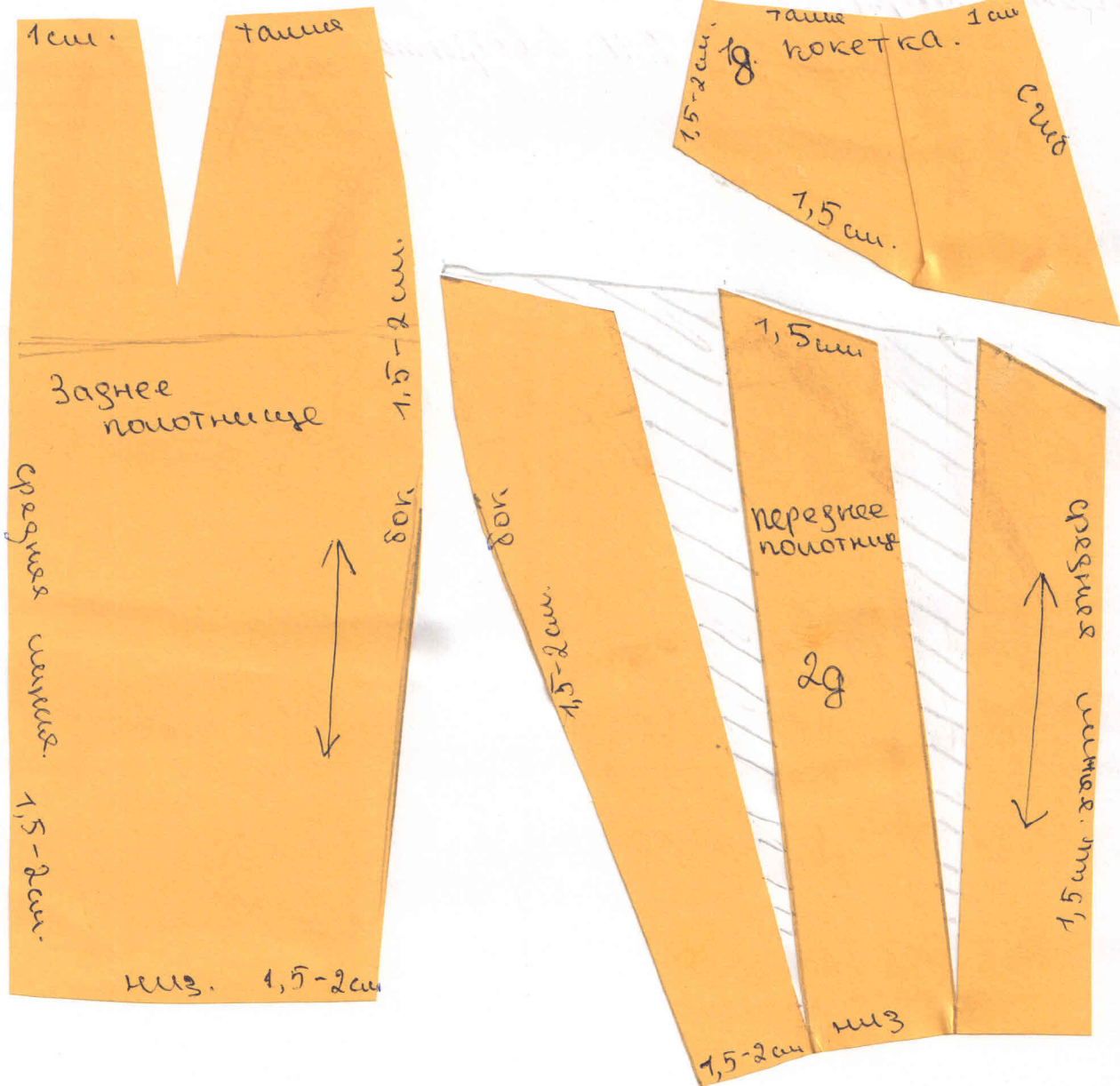
Чертеж основы юбки для моделирования





T-9-3

Результаты моделирования.



T-9-3

теория - 175.  
творческое задание - 45.  
логическое задание 185 } 325.  
Формы - 145.

Итого - 595.

Председатель *В.А.* М.А. Срежневая  
Члены жюри. С.В. Волынский  
*В.И.* Т.И. Светлов